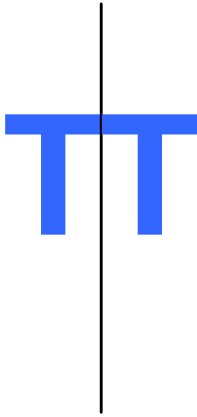


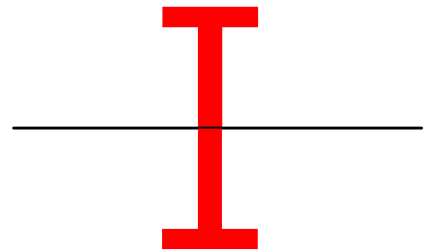
FIGURY SYMETRYCZNE WZGLĘDEM PROSTEJ

1. Na którym rysunku figury są położone symetrycznie względem narysowanej prostej?

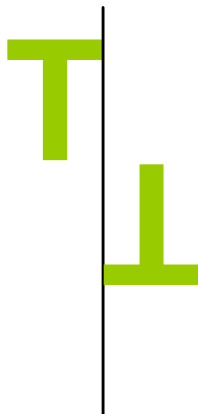
a)




b)



c)



d)



e)

